

### QUESTION 1 (45 points)

- Indiquer les catégories "jeunes" ouvertes dans chaque division d'arc pouvant participer aux championnats de France de tir en campagne ; préciser la couleur du piquet.  
(15 points)

[Réponse](#)

**1-2** Vous êtes responsable d'un concours dominical et vous allez vérifier le terrain ainsi que les distances entre les pas de tir et les cibles. Vous constatez que les distances ne sont pas exactes sur les cibles connues. Que faites-vous ? Y a-t-il des tolérances ? Si oui précisez ces tolérances.

(10 points)

[Réponse](#)

**1-3.** Barrez les scopes que vous n'autoriseriez pas en tir en campagne.

(5 points)



**1- 4** Dans le tir en campagne

- 1) de combien d'archers est composée une équipe Homme, Femme ou Mixte ?
- 2) Que doit-elle comprendre obligatoirement ?
- 3) Sur combien de concours le classement sélectif est-il établi ?

(5 points)

Réponse :

**1-5 QCM (10 points)**

	V	F
Le blason doit être à moins de 15 cm du sol		
La fourchette de distances pour 12 cibles piquets rouges est de 300 à 330 m		
Un temps limite de 4 minutes par archer est autorisé		
Les repères pour les lèvres sur la corde sont autorisés en arc nu		
Les repères pour les lèvres sur la corde ne sont pas autorisés en longbow		
Un overdraw de 4 cm est autorisé en arc nu		
Le diamètre de la pointe d'une flèche en bois doit être inférieur ou égal à 9.4mm		
En finale, un arc cassé peut être remplacé par un arc de rechange ou un arc emprunté		
Dans tous les cas, un appel (réclamation) doit se faire dans les 15 minutes suivant la fin de la phase		
Les pas de tir en éventails sont autorisés pour les concours qualificatifs uniquement		
Un téléphone mobile peut servir d'appareil photo après le tir des 3 flèches		
Pour les distances inconnues, la distance maxi du piquet rouge est de 60m		
Les fûts multicolores sont autorisés		
En arc à poulies la puissance maximale est de 65 livres		

Un viseur multipoints est autorisé sur les arcs à poulies en distances inconnues		
En longbow seule la prise avec 1 doigt au-dessus de l'encoche et 2 doigts en dessous est autorisée ?		
Si l'archer peut toucher une flèche tombée de son arc, il peut la considérer comme non tirée		
Sur un blason de 20 cm, l'archer C tire sur la 3ème colonne		
C'est toujours la même paire d'archers qui commence le tir sur toutes les cibles		
En phases éliminatoires on prend le nombre de 6 et de 5 pour départager les égalités		

## QUESTION 2 (45 points)

**2.1** Au début de l'après midi, vous constatez que deux archers du même peloton sont visiblement ivres. Que faites-vous ?

(10 points)

[Réponse](#)

**2.2** Lors d'une compétition sélective pour le « France », vous constatez qu'un compétiteur semble prendre beaucoup de temps pour tirer ses flèches.

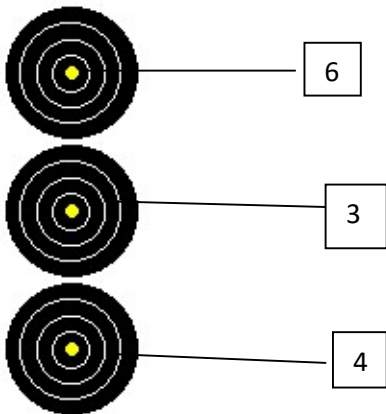
Expliquez comment vous allez procéder ?

(15 points)

[Réponse :](#)

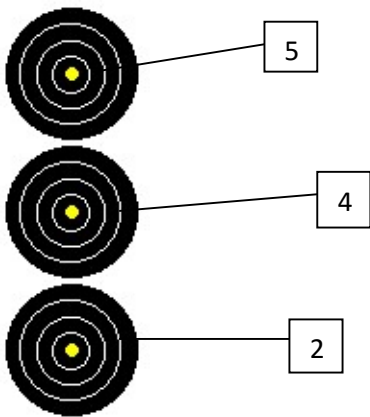
- **Pour chaque situation ci-après, donnez la valeur de la volée** en précisant la valeur de chaque flèche et le total de la volée. Une valorisation non expliquée ne sera pas prise en compte  
(15 points : 3 points par bonne réponse)

Avant de se planter dans le 3, cette flèche a percuté la flèche plantée dans le 6



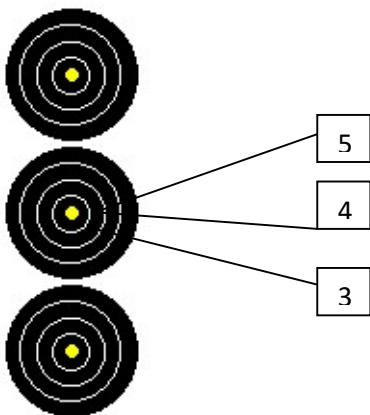
Valeur de la volée :

Lors de la 1/2 finale d'un championnat régional, l'arbitre accompagne le peloton. Après que celui-ci ait donné le signal de fin de tir ("stop") l'archer a tiré encore une flèche. L'arbitre et les autres compétiteurs ont vu clairement que cette flèche s'est plantée dans le 2.



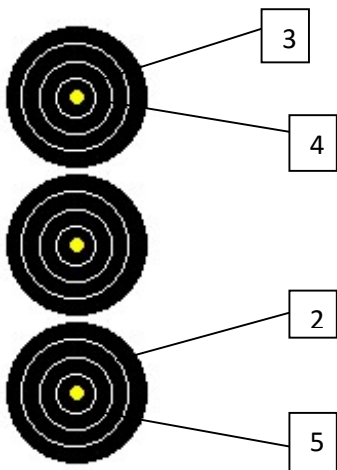
Valeur de la volée : :

Lors de la phase de qualification, cible à 15 m. Un archer tire ses 3 flèches dans le même blason



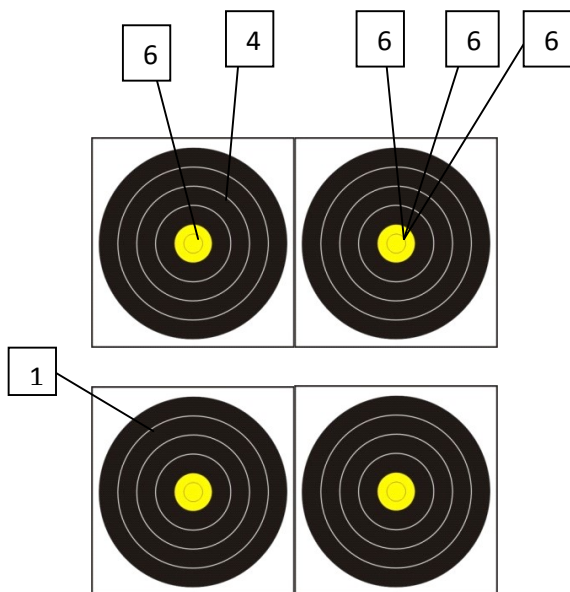
Valeur de cette volée : :

L'archer a tiré 4 flèches !



Valeur de la volée :

La flèche de l'archer qui a tiré en position « A » a percuté le 6 et s'est plantée dans le blason réservé à l'archer devant tirer en position « C »



Valeur de la volée :

2-4 Lors d'un concours qualificatif, vous constatez qu'un archer se trompe de colonne de tir (cible de 20 cm). Au moment d'inscrire les points, il donne les valeurs de ses flèches. Vous lui indiquez qu'il s'est trompé de colonne et que ses flèches sont marquées comme manquées. Au moment du retour des feuilles de marques, vous vous apercevez que sur sa fiche de marque les points sont bien présents. Que faites-vous ? (5 points)

### **QUESTION 3 (10 points)**

#### **Sécurité**

Citez, pour la(les) discipline(s) attachée(s) à votre option, 5 éléments essentiels de sécurité que les arbitres doivent:

- soit vérifier avant le début des tirs
- soit contrôler tout au long de la compétition