

# EXAMEN ECRIT D'ARBITRE FEDERAL - Session 2-2014

## OPTION TIR EN CAMPAGNE

### QUESTION 1

#### 1.1

**A** -Citer les catégories d'âge admises en compétition arcs à poulies en précisant la couleur du piquet de tir

**B** -Citer les catégories d'âge admises en compétition arcs nus en précisant la couleur du piquet de tir

**1.2** Si possible à l'aide d'un tableau représentant une feuille de marque, établir sur celle-ci l'enregistrement de la volée d'un concurrent ayant tiré :

- première flèche 5 points
- deuxième flèche 4 points
- troisième flèche 6 points

**1.3** Lors d'un concours qualificatif, l'organisateur vous demande :  
comment classer un archer inscrit en: Vétéran homme arc droit ?  
et à quel piquet cet archer doit il tirer ?

**1.4** Le correspondant de presse du village où se déroule le championnat de ligue de tir en campagne vient d'entendre la composition du jury d'appel. Il vous demande des renseignements. Sans énumérer tous les détails, expliquez ce qu'est le jury d'appel.

**1.5**  
Vous accompagnez un peloton lors des ½ finales du championnat de Ligue individuel. Pour chronométrer les concurrents, expliquez comment vous allez procéder.

## QUESTION n° 2 (45 points)

### 2.1.

Championnat de France par équipes de clubs - Phase de qualification - Blasons de 40 cm.

- combien de flèches par cible chaque équipe tire-t-elle ?
- de combien de temps dispose chaque équipe pour tirer ses flèches ?
- en fonction de la rotation, dans quel(s) blason(s) doit tirer la première équipe ?

### 2.2

Championnat de France par équipes de clubs - Phase de qualification - Blasons de 40 cm.

L'équipe A tire ses trois premières flèches dans le blason du haut à gauche et tire ses six flèches restantes dans le blason du bas, à droite.

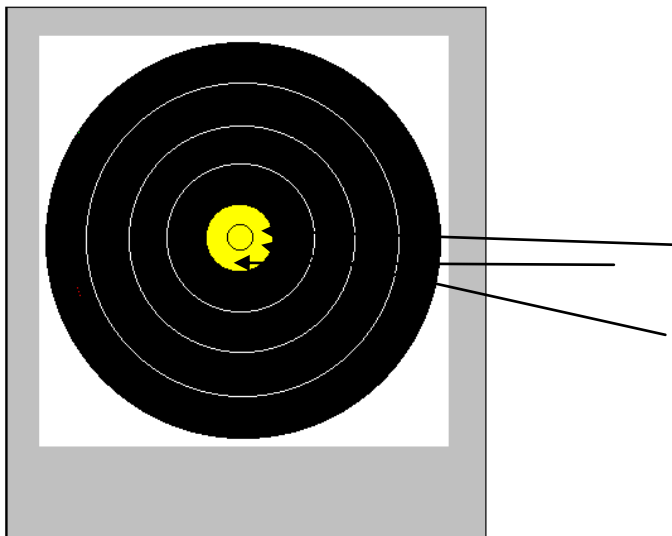
Se rendant compte de la situation, l'arbitre signale à l'équipe B, qui n'a pas encore tiré, de ne pas faire la même erreur.

Que pensez-vous du comportement de cet arbitre ? Donnez des explications.

### 2.3.

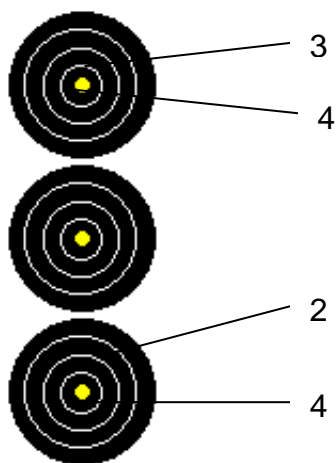
Pour chaque cas ci-après, donner la valeur de la volée en précisant la valeur de chaque flèche

2.3.1 Avant de tomber au sol, la flèche a percuté une flèche plantée dans le 5



Valeur de la volée :

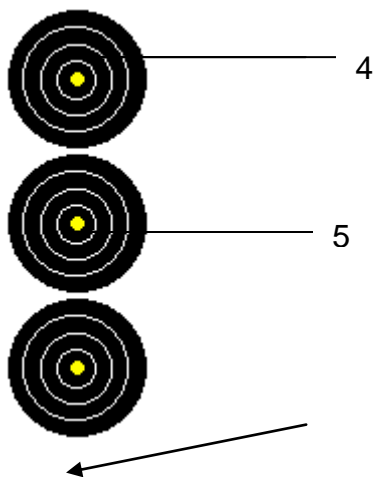
2.3.2



La flèche dans le 2 a été tirée hors temps

Valeur de la volée :

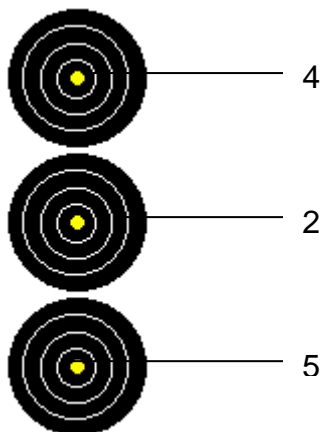
2.3.3



La troisième flèche a percuté la flèche dans le 5 : elle est tombée au sol.

Valeur de la volée :

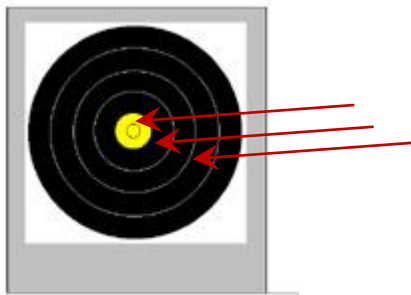
2.3.4



Avant de se planter dans le 2, cette flèche a percuté la flèche plantée dans le 5

Valeur de la volée :

### 2.3.5



Même cas que le précédent.  
Flèches en cible : 5-4-2

**Valeur de la volée :**

Blason 60cm

---

### 2.4.

Vous vous trouvez à la cible 14 et vous constatez que l'archer A, par un mouvement brusque, touche l'arc de l'archer B avec ses stabilisateurs au moment où l'archer B lâche sa flèche. Du fait de cette gêne, la flèche de l'archer B manque la cible. Ce dernier demande à pouvoir tirer sa flèche à nouveau, prétextant des circonstances indépendantes de sa volonté.

- la flèche de l'archer B est-elle considérée comme tirée ou non tirée ? Expliquez pourquoi.
- l'archer A doit-il être pénalisé ?

### QUESTION 3 (10 points)

Enumérez les différentes tâches devant être effectuées par les arbitres avant la compétition.

1. prendre connaissance de l'invitation (mandat) qui doit être adressée par l'organisateur aux arbitres.
2. effectuer toutes les vérifications nécessaires (terrain, distances, blasons) au bon déroulement du concours, en utilisant la liste du rapport d'arbitre.
3. prendre contact avec le responsable de l'équipe de terrain.
4. s'assurer que le greffe contrôle bien la validité des licences.
5. contrôler l'affectation des cibles ou pelotons.
6. contrôler l'installation des tireurs sur le terrain (tentes, parasols, arcs) lors des concours en salle ou Fita ou Fédéral.
7. diriger l'entraînement, en concertation avec le directeur des tirs.
8. contrôler la tenue vestimentaire des archers, le port correct du dossard (si nécessaire).